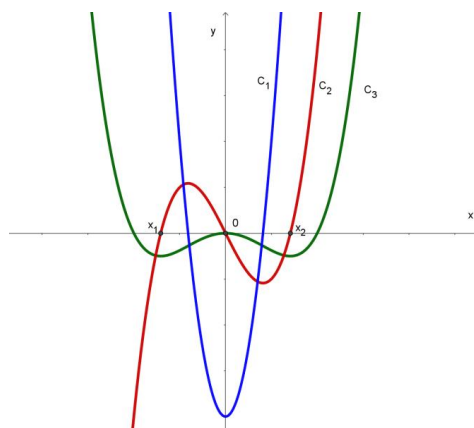


1. ΘΕΜΑ_2_32694

Στο σχήμα δίνονται οι γραφικές παραστάσεις C_1, C_2, C_3 τριών συναρτήσεων f, f' και F , όπου F μία αρχική της f στο \mathbb{R} . Με δεδομένο ότι η γραφική παράσταση της συνάρτησης f είναι η C_2 ,



α) i. Να μεταφέρετε τον παρακάτω πίνακα στην κόλλα σας και να τον συμπληρώσετε με το πρόσημο της f καθώς και την μονοτονία της F .

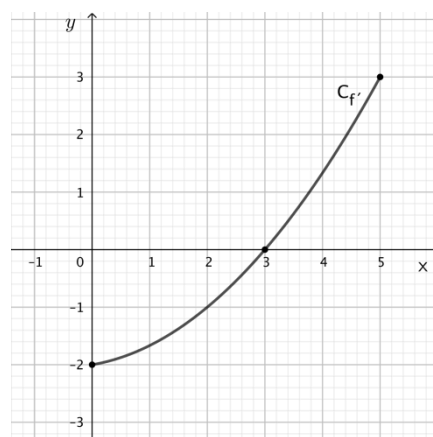
x	$-\infty$	x_1	0	x_2	$+\infty$
$F' = f$		0	0	0	
F					

ii. Να βρείτε το πλήθος καθώς και το είδος των τοπικών ακροτάτων της F .

β) Να δικαιολογήσετε γιατί οι γραφικές παραστάσεις C_1, C_3 με την σειρά που δίνονται αντιστοιχούν στις συναρτήσεις f' και F .

2. ΘΕΜΑ_2_26707

Στο σχήμα δίνεται η γραφική παράσταση της παραγώγου f' μιας πολυωνυμικής συνάρτησης f τρίτου βαθμού η οποία είναι ορισμένη στο κλειστό διάστημα $[0,5]$.



α) Ποιες είναι οι ρίζες της εξίσωσης $f'(x) = 0$;

β) Να αποδείξετε ότι η f είναι γνησίως φθίνουσα στο $[0,3]$ και γνησίως αύξουσα στο $[3,5]$.

γ) Να βρείτε το είδος ακροτάτου που παρουσιάζει η f στο $x_0 = 3$. Να αιτιολογήσετε την απάντησή σας.

3. ΘΕΜΑ_2_32390

Δίνεται η συνάρτηση $f(x) = x^4 - 4x + 2, x \in [0,2]$.

α) Να βρείτε τα κρίσιμα σημεία της συνάρτησης.

β) Να βρείτε τα ολικά ακρότατα της συνάρτησης.

4. ΘΕΜΑ_2_25764

Δίνεται η συνάρτηση $f(x) = \begin{cases} \ln(x+1), & x \geq 0 \\ x^3, & x < 0 \end{cases}$.

- α) Να εξετάσετε αν είναι συνεχής στο $x_0 = 0$.
β) Να αποδείξετε ότι η f είναι γνησίως αύξουσα στο \mathbb{R} .

5. ΘΕΜΑ_2_25761

Δίνεται η συνάρτηση $f(x) = x(\ln x - 1) + 1$, $x > 0$.

- α) Να την μελετήσετε ως προς τη μονοτονία και τα ακρότατα.
β) Να λύσετε την εξίσωση $x \ln x + 1 = x$.

6. ΘΕΜΑ_2_23197

Δίνεται η συνάρτηση $f(x) = x^2 - 2x$, $x \in \mathbb{R}$.

- α) Να βρείτε δυο διαφορετικούς αριθμούς α , β ώστε $f(\alpha) = f(\beta)$. Κατόπιν να αιτιολογήσετε γιατί η συνάρτηση f δεν αντιστρέφεται.
β) Να μελετήσετε τη συνάρτηση, με τη βοήθεια της παραγώγου ή με οποιονδήποτε άλλο τρόπο, ως προς τη μονοτονία και τα ακρότατα.
γ) Να σχεδιάσετε τη γραφική παράσταση C_f της f .

7. ΘΕΜΑ_2_34025

Δίνεται η συνάρτηση $f(x) = \frac{1}{\ln x}$, $x \in (1, +\infty)$.

- α) i. Να δείξετε ότι $f'(x) < 0$ με $x \in (1, +\infty)$.
ii. Να βρείτε το σύνολο τιμών της συνάρτησης.
β) i. Να δείξετε ότι η f αντιστρέφεται.
ii. Να βρείτε την αντίστροφη της f .

8. ΘΕΜΑ_3_34026

Δίνεται η συνάρτηση $f(x) = 1 - 2 \ln x$, $x > 0$.

- α) Να βρείτε:
i. την μονοτονία της συνάρτησης f .
ii. το πρόσημο της f .
β) i. Να δείξετε ότι η συνάρτηση $g(x) = \frac{\ln x}{x^2}$, $x > 0$, έχει μέγιστη τιμή την $g\left(e^{\frac{1}{2}}\right) = \frac{1}{2e}$.
ii. Να βρείτε το σύνολο τιμών της συνάρτησης g .

9. ΘΕΜΑ_4_36814

Ένας αγρότης θέλει να περιφράξει σε ένα χωράφι μια περιοχή σχήματος ορθογωνίου με μεταβλητές διαστάσεις x , y ώστε να έχει εμβαδόν 800 m^2 . Η μία πλευρά της περιοχής, μήκους x , θα είναι πέτρινη, ενώ

για τις υπόλοιπες πλευρές θα χρησιμοποιήσει συρμάτινο φράχτη. Αν το κόστος περιφράξης για την πέτρινη πλευρά είναι 6 ευρώ ανά m και για τον συρμάτινο φράχτη είναι 2 ευρώ ανά m , τότε:

α) Να αποδείξετε ότι το συνολικό κόστος της περιφράξης, συναρτήσει του x , είναι:

$$K(x) = 8x + \frac{3.200}{x}, \quad x > 0$$

β) Να βρείτε ποιες θα πρέπει να είναι οι διαστάσεις του κτήματος ώστε το συνολικό κόστος περιφράξης να είναι ελάχιστο, και να προσδιορίσετε την ελάχιστη τιμή του.

γ) Να αποδείξετε ότι ο ρυθμός μεταβολής του κόστους αυξάνεται για κάθε $x > 0$.

10. ΘΕΜΑ_4_33596

Δίνεται η συνάρτηση $f(x) = \ln x$ και το σημείο $A(0,2)$. Αν $K(x, \ln x)$ με $x > 0$ τυχαίο σημείο της C_f και $M(x_0, \ln x_0)$ με $x_0 > 0$ το σημείο εκείνο της C_f που απέχει την ελάχιστη απόσταση από το σημείο A , να αποδείξετε ότι:

α) η απόσταση AK συναρτήσει του $x > 0$ είναι ίση με $d(x) = \sqrt{x^2 + \ln^2 x - 4 \ln x + 4}$.

β) $x_0^2 + \ln x_0 - 2 = 0$.

γ) η εφαπτομένη της C_f στο M

i. είναι κάθετη στην AM .

ii. τέμνει τον άξονα $x'x$ στο σημείο $(x_0^3 - x_0, 0)$.

11. ΘΕΜΑ_4_27092

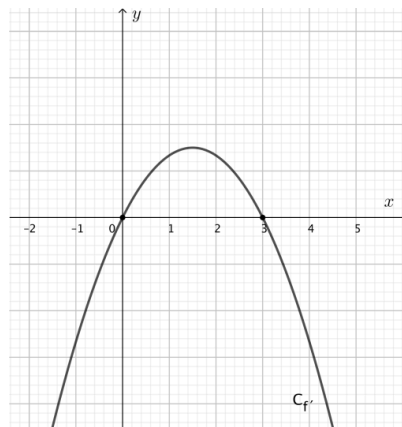
Στο διπλανό σχήμα δίνεται η γραφική παράσταση της παραγώγου f' μιας πολυωνυμικής συνάρτησης f τρίτου βαθμού.

α) Με τη βοήθεια του σχήματος, να μελετήσετε τη συνάρτηση f ως προς τη μονοτονία.

β) Αν η γραφική παράσταση της f διέρχεται από τα σημεία $A(0, -1)$ και $B(3, 2)$, τότε να βρείτε τα ακρότατα της f .

γ) Να προσδιορίσετε τον τύπο της f .

δ) Να βρείτε το πλήθος ριζών της εξίσωσης $f(x) = \alpha$, $\alpha \in \mathbb{R}$, στο διάστημα $(0, 3)$.



12. ΘΕΜΑ_4_33642

Έστω $f: \mathbb{R} \rightarrow \mathbb{R}$ μια παραγωγίσιμη συνάρτηση για την οποία $f(0) = 1$ και για κάθε $x \in \mathbb{R}$ ισχύει ότι:

$$f(x) + 2x = f'(x) + x^2$$

α) Να αποδείξετε ότι αν $g(x) = f(x) - x^2$, τότε ισχύει:

i. $g'(x) = g(x)$ για κάθε $x \in \mathbb{R}$.

ii. $f(x) = e^x + x^2, x \in \mathbb{R}$.

β) Να αποδείξετε ότι:

i. Υπάρχει μοναδικό σημείο $M(x_0, f(x_0))$, $x_0 \in (-1, 0)$ στο οποίο η εφαπτομένη της C_f είναι οριζόντια.

ii. Η f παρουσιάζει ελάχιστο στο x_0 και για την ελάχιστη τιμή m της συνάρτησης ισχύει $e^{-1} < m < 2$.

13. ΘΕΜΑ_4_29149

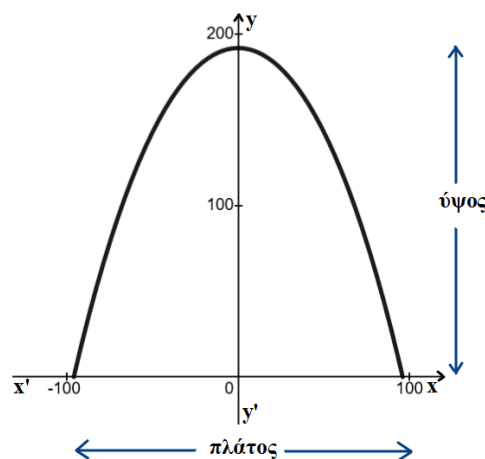
Δίνεται η συνάρτηση $g: [-96, 96] \rightarrow \mathbb{R}$ με $g(x) = e^{\frac{x}{96}} + e^{-\frac{x}{96}}$.

α) Να μελετήσετε τη συνάρτηση g ως προς τη μονοτονία και τα ακρότατα.

β) Αν $\alpha > 0$ και $f(x) = 2\alpha[g(96) - g(x)]$, $x \in [-96, 96]$ τότε:

i. Να αποδείξετε ότι $f(x) > 0$, για κάθε $x \in (-96, 96)$.

ii. Να προσδιορίσετε τον αριθμό α όταν επιπλέον, είναι γνωστό ότι η γραφική παράσταση της συνάρτησης f , όπως φαίνεται στο παρακάτω σχήμα, παριστάνει την αψίδα του Σεντ Λούις η οποία έχει την ιδιότητα το πλάτος της να είναι ίση με το ύψος της.



14. ΘΕΜΑ_4_34441

Μία βιοτεχνία που ράβει ρούχα πρόκειται να ετοιμάσει μία παραγγελία για 600 παντελόνια σε μία ημέρα. Για το λόγο αυτό θα απασχολήσει ράφτες (άνδρες και γυναίκες), από το εργατικό δυναμικό της, που ράβουν 6 παντελόνια την ώρα και θα αμείβονται με 12 ευρώ την ώρα. Για τον συντονισμό και την εποπτεία των ραφτών, οι ιδιοκτήτες της βιοτεχνίας θα απασχολήσουν και μία από τις γυναίκες μόδιστρους της βιοτεχνίας ως επιστάτρια, την οποία θα πληρώνουν 20 ευρώ την ώρα. Επιπλέον οι ιδιοκτήτες της βιοτεχνίας θα πληρώνουν ασφαλιστικές εισφορές, 20 ευρώ την ημέρα για κάθε εργαζόμενο, συμπεριλαμβανομένης και της γυναίκας επιστάτριας. Αν x είναι ο αριθμός των ραφτών (άνδρες και γυναίκες) που θα απασχολήσει η βιοτεχνία για την διεκπεραίωση της παραγγελίας τότε:

α) Να αποδείξετε ότι το συνολικό κόστος για την εκτέλεση της παραγγελίας είναι:

$$K(x) = 20x + \frac{2000}{x} + 1220 \text{ ευρώ με } x > 0.$$


β) Να αποδείξετε ότι αν οι ιδιοκτήτες της βιοτεχνίας απασχολήσουν για την εν λόγω παραγγελία, 10 ράφτες, η παραγγελία αυτή θα εκτελεστεί με το ελάχιστο κόστος.

γ) Να βρείτε το ελάχιστο κόστος.

δ) Πόσες ώρες θα απασχοληθούν οι ράφτες, πέραν του οκταώρου (υπερωρία), ώστε η παραγγελία να εκτελεστεί με το ελάχιστο κόστος;

15. ΘΕΜΑ_4_26633

Με συρματόπλεγμα μήκους 400 μέτρων, έχουμε περιφράξει μια περιοχή σχήματος ορθογωνίου, από τις τρεις πλευρές της, όπως φαίνεται στο διπλανό σχήμα. Η τέταρτη πλευρά, με μήκος x μέτρα, είναι ευθυγραμμισμένη κατά μήκος της όχθης ενός ποταμού.



α) Να αποδείξετε ότι το εμβαδό της περιφραγμένης περιοχής συναρτήσει του μήκους x , δίνεται από τον τύπο:

$$E(x) = 200x - \frac{1}{2}x^2 \text{ με } 0 < x < 400.$$

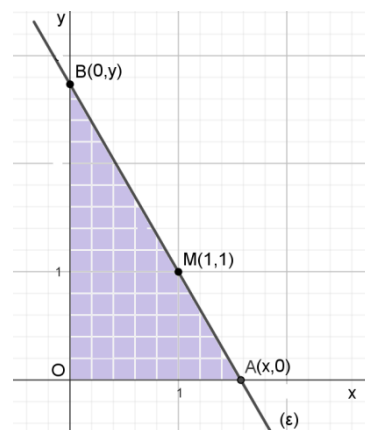
β) Να υπολογίσετε την τιμή του x , για την οποία το εμβαδό $E(x)$ της περιφραγμένης περιοχής γίνεται μέγιστο.

γ) Να υπολογίσετε τη μέγιστη τιμή του εμβαδού $E(x)$ της περιφραγμένης περιοχής.

δ) Ο Ιάσωνας ισχυρίζεται ότι υπάρχει μοναδική τιμή του x , που ανήκει στο διάστημα $(0, 200)$ για την οποία το εμβαδό της περιφραγμένης περιοχής, ισούται με 300π τετραγωνικά μέτρα. Είναι αληθής ή ψευδής ο ισχυρισμός του Ιάσωνα; Να αιτιολογήσετε την απάντησή σας.

16. ΘΕΜΑ_4_34440

Σε ορθοκανονικό σύστημα συντεταγμένων με αρχή των αξόνων το $O(0,0)$, δίνεται το σημείο $M(1,1)$. Μια ευθεία (ε) που διέρχεται από το M τέμνει τους θετικούς ημιάξονες Ox και Oy στα σημεία $A(x,0)$, $x > 0$ και $B(0,y)$, $y > 0$ αντιστοίχως, όπως φαίνεται και στο σχήμα.



α) Για $x \in (1, +\infty)$ να αποδείξετε ότι το εμβαδόν του τριγώνου OAB ως

συνάρτηση του x δίνεται από τον τύπο: $E(x) = \frac{x^2}{2(x-1)}$.

β) Να αποδείξετε ότι για $x = 2$ το εμβαδό του τριγώνου OAB παίρνει την ελάχιστη τιμή, η οποία και να βρεθεί.

γ) Να βρείτε την εφαπτομένη (ζ) της γραφικής παράστασης της E , στο σημείο $(3, E(3))$ και τα σημεία Γ, Δ στα οποία αυτή τέμνει τους άξονες $x'x$ και $y'y$ αντίστοιχα.

δ) Ένα σημείο $K(x, y)$ κινείται πάνω στην ευθεία (ζ) και η τεταγμένη του αυξάνεται με ρυθμό μεταβολής 3 μονάδες/sec. Να βρείτε το ρυθμό μεταβολής της τετμημένης του.

17. ΘΕΜΑ_4_29644

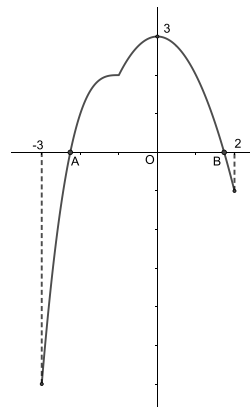
Στο παρακάτω σχήμα δίνεται η γραφική παράσταση μιας συνεχούς συνάρτησης f στο διάστημα $[-3, 2]$, η οποία παρουσιάζει μέγιστο στο 0 το 3 και τέμνει τον άξονα $x'x$ στα σημεία A και B .

Έστω g η συνάρτηση με $g(x) = f(x) + x$, $x \in [-3, 2]$,

α) Να αποδείξετε ότι:

- i. η συνάρτηση g είναι συνεχής στο $[-3, 2]$,
- ii. η εξίσωση $g(x) = 0$ έχει μία τουλάχιστον ρίζα.

β) Αν η συνάρτηση f είναι παραγωγίσιμη στο $(-1, 2)$, να αποδείξετε ότι η εφαπτομένη ευθεία της γραφικής παράστασης της συνάρτησης g , στο σημείο που η f παρουσιάζει μέγιστο, έχει εξίσωση $y = x + 3$.

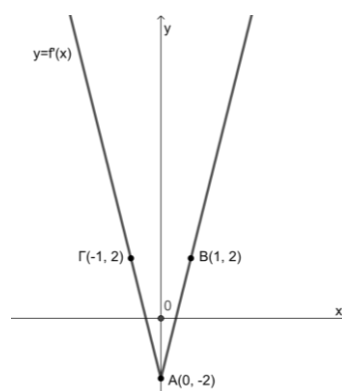


18. ΘΕΜΑ_4_28337

Έστω $f: \mathbb{R} \rightarrow \mathbb{R}$ μία παραγωγίσιμη συνάρτηση. Η γραφική παράσταση C της παραγώγου f' , είναι οι δύο ημιευθείες που φαίνονται στο παρακάτω σχήμα. Αυτές έχουν κοινή αρχή το σημείο $A(0, -2)$ και διέρχονται η μία από το σημείο $B(1, 2)$ και η άλλη από το $\Gamma(-1, 2)$.

- α) Να βρείτε τα σημεία τομής της C με τον άξονα x' .
- β) Να μελετήσετε τη συνάρτηση f ως προς τη μονοτονία.
- γ) Να προσδιορίσετε τις θέσεις και το είδος των τοπικών ακροτάτων της f .
- δ) Έστω ότι η γραφική παράσταση της f διέρχεται από το σημείο $\Delta(1, 0)$.

Να αποδείξετε ότι η ευθεία $A\Delta$ εφαπτεται της γραφικής παράστασης της f .



19. ΘΕΜΑ_4_28534

Θέλουμε να κατασκευάσουμε ένα παραθύρο σε μια εκκλησία, το οποίο να αποτελείται από έναν ημικυκλικό δίσκο και από ένα ορθογώνιο, όπως δείχνει το παρακάτω σχήμα. Η συνολική περίμετρος του παραθύρου θέλουμε να είναι σταθερή ίση με 4 m, αλλά το συνολικό εμβαδό του παραθύρου να είναι το μεγαλύτερο δυνατό. Έστω ότι η ακτίνα του ημικυκλίου είναι $(AK) = x$ m και το ύψος του ορθογωνίου είναι $(A\Delta) = y$ m. Ονομάζουμε $E(x)$ το συνολικό εμβαδόν του παραθύρου.

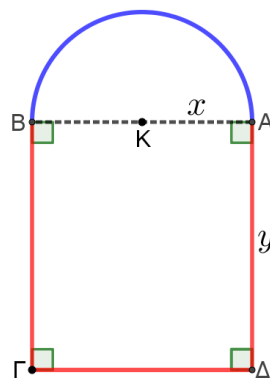
α) Να αποδείξετε ότι:

$$y = -\frac{\pi+2}{2} \cdot x + 2 \text{ και } E(x) = -\frac{\pi+4}{2} \cdot x^2 + 4x, x \in \left(0, \frac{4}{\pi+2}\right)$$

β) Να βρείτε την μέγιστη τιμή του συνολικού εμβαδού του παραθύρου.

γ) Ονομάζουμε x_0 την τιμή του x που μεγιστοποιεί το εμβαδόν $E(x)$ και $E(x_0)$ το μέγιστο εμβαδό.

Να υπολογίσετε το $\lim_{x \rightarrow x_0} \frac{\ln(E(x))}{E(x) - E(x_0)}$.



20. ΘΕΜΑ_4_28532

Ένας άνδρας βρίσκεται στο σημείο A μια κυκλικής λίμνης ακτίνας 1 Km και θέλει να φτάσει στο σημείο B της λίμνης ώστε η AB να είναι διάμετρος του κύκλου. Θέλει να τα καταφέρει συνδυάζοντας δύο είδη κινήσεων: να κωπηλατήσει αρχικά με βάρκα κατά μήκος του ευθυγράμμου τμήματος AP έχοντας ταχύτητα 3 Km/h και στη συνέχεια τρέχοντας πάνω στην κυκλική περιφέρεια κατά μήκος του τόξου PB με ταχύτητα 6 Km/h. Έστω ότι η μεταβλητή γωνία \widehat{PAB} είναι θ rad.

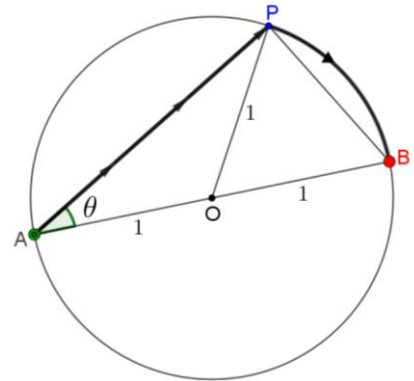
α) Να αποδείξετε ότι $(AP) = 2\text{συν}\theta$ και ότι ο συνολικός χρόνος που θα χρειαστεί ο άνδρας για να κάνει τη μετάβαση από το A στο B

$$\text{είναι } f(\theta) = \frac{1}{3}(2\text{συν}\theta + \theta), \quad 0 < \theta < \frac{\pi}{2}.$$

β) Να βρείτε την τιμή της γωνίας θ για την οποία ο συνολικός χρόνος μετάβασης γίνεται μέγιστος.

γ) Να αποδείξετε ότι σύνολο τιμών της συνάρτησης $f(\theta)$ είναι

$$f\left(\left(0, \frac{\pi}{2}\right)\right) = \left[\frac{\pi}{6}, \frac{\pi + 6\sqrt{3}}{18}\right].$$



Δίνονται: το μήκος S ενός τόξου που αντιστοιχεί σε επίκεντρη γωνία x rad σε κύκλο ακτίνας R , είναι $S = x \cdot R$ και ότι (απόσταση) = (χρόνος) \times (ταχύτητα).

21. ΘΕΜΑ_4_27650

Δίνεται η συνάρτηση $f(x) = \ln x$, $x > 0$ και τα σημεία $A(0,1)$ και $B(1,3)$.

α) i. Να βρείτε σημείο M_0 της C_f τέτοιο, ώστε η εφαπτομένη να είναι παράλληλη προς την ευθεία AB.

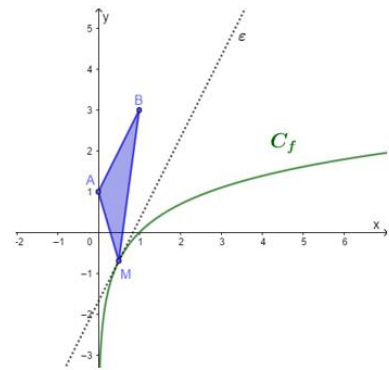
ii. Να βρείτε την εξίσωση της εφαπτομένης στο M_0 .

β) Έστω $E(x) = \frac{1}{2}(2x + 1 - \ln x)$, $x > 0$ η συνάρτηση που

εκφράζει το εμβαδόν του τριγώνου ABM, όπου M ένα

τυχαίο σημείο της γραφικής παράστασης της f . Να αποδείξετε ότι το εμβαδόν του τριγώνου γίνεται ελάχιστο όταν το σημείο M ταυτίζεται με το M_0 του α) ερωτήματος.

γ) Να αποδείξετε ότι υπάρχει μοναδικό σημείο M_1 της C_f με τετμημένη $x_1 \in (1,2)$ τέτοιο, ώστε το τρίγωνο ABM_1 να είναι ορθογώνιο στην κορυφή A.



22. ΘΕΜΑ_4_24587

Δίνεται η συνάρτηση $f : (0 + \infty) \rightarrow \mathbb{R}$, με τύπο $f(x) = 2\ln x - x$ και η ευθεία $(\varepsilon) : y = x$. Γνωρίζουμε ότι η απόσταση ενός σημείου $M(x_0, y_0)$ της γραφικής παράστασης της συνάρτησης f από την ευθεία (ε) , είναι

$$d(M, (\varepsilon)) = \sqrt{2}|x_0 - \ln x_0|.$$

- α) Να αποδείξετε ότι η απόσταση του σημείου $M(x_0, y_0)$ της γραφικής παράστασης της συνάρτησης f από την ευθεία $(\varepsilon): y = x$, είναι $d(M, (\varepsilon)) = \sqrt{2}(x_0 - \ln x_0)$.
- β) i. Να βρείτε το σημείο της C_f , το οποίο απέχει την ελάχιστη απόσταση από την ευθεία (ε) .
 ii. Να βρείτε την ελάχιστη απόσταση.
- γ) Να βρείτε το σημείο της C_f , στο οποίο η εφαπτομένη της είναι παράλληλη με την ευθεία $(\varepsilon): y = x$ και στη συνέχεια να βρείτε την εξίσωση της εφαπτομένης.

23. ΘΕΜΑ_4_23311

Θεωρούμε ορθογώνιο τρίγωνο με άθροισμα καθέτων πλευρών ίσο με 1. Αν η μία κάθετη πλευρά του έχει μήκος x , τότε:

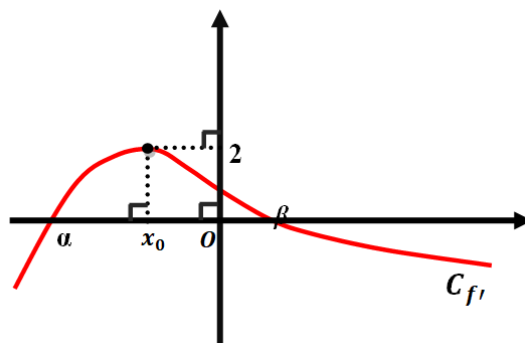
- α) Να βρείτε την συνάρτηση που εκφράζει το εμβαδόν του τριγώνου συναρτήσει του x και να την εξετάσετε ως προς τα ακρότατα.
- β) Να βρείτε την συνάρτηση που εκφράζει την υποτείνουσα του τριγώνου συναρτήσει του x και να την εξετάσετε ως προς τα ακρότατα.
- γ) Να αποδείξετε ότι η μέγιστη τιμή του ύψους $υ$ που αντιστοιχεί στην υποτείνουσα του τριγώνου είναι ίση με $\frac{\sqrt{2}}{4}$, όταν $x = \frac{1}{2}$.
- δ) Αν θ η οξεία γωνία που βρίσκεται απέναντι από την πλευρά x , να βρείτε το ρυθμό μεταβολής της θ τη χρονική στιγμή t_0 κατά την οποία $x(t_0) = \frac{1}{2}$, δεδομένου ότι η πλευρά x αυξάνεται με σταθερό ρυθμό 0,1 m/s.

24. ΘΕΜΑ_4_23210

Θεωρούμε συνάρτηση $f: \mathbb{R} \rightarrow \mathbb{R}$ δύο φορές παραγωγίσιμη στο \mathbb{R} και στο παρακάτω σχήμα δίνεται η γραφική παράσταση της παραγώγου συνάρτησης $f'(x)$. Γνωρίζουμε ότι:

$$\lim_{x \rightarrow -\infty} f(x) = +\infty, \quad \lim_{x \rightarrow +\infty} f(x) = -\infty, \quad \text{τα } \alpha, \beta \text{ είναι οι}$$

τετμημένες των μοναδικών δύο σημείων στα οποία τέμνει τον άξονα $x'x$ η γραφική παράσταση της παραγώγου συνάρτησης $f'(x)$, $f(\alpha) < 0$, $f(\beta) > 0$ και η γραφική παράσταση της $f'(x)$ παρουσιάζει ολικό ακρότατο στη θέση x_0 .



- α) Να μελετηθεί ως προς τη μονοτονία και τα τοπικά ακρότατα η $f(x)$.
- β) Να αποδείξετε ότι η εξίσωση $f(x) = 0$ έχει τρεις ακριβώς πραγματικές ρίζες.
- γ) Να αποδείξετε ότι για κάθε $x \in \mathbb{R}$, ισχύει $f(x+1) - f(x) \leq 2$.

25. ΘΕΜΑ_4_23215

Δίνεται συνάρτηση $f : \mathbb{R} \rightarrow \mathbb{R}$ για την οποία ισχύει $f'(x) \neq 0$ για κάθε $x \in \mathbb{R}$.

α) Να αποδείξετε ότι η συνάρτηση f είναι $1-1$.

Δίνεται επιπλέον ότι

- η συνάρτηση f' είναι συνεχής,
- $f(0) = -1$ και $f(2) = 1$.

β) Να αποδείξετε ότι υπάρχει εφαπτομένη της γραφικής παράστασης της f που είναι παράλληλη στην ευθεία $y = x$.

γ) i. Να αποδείξετε ότι η συνάρτηση f είναι γνησίως αύξουσα

ii. Να αποδείξετε ότι η γραφική παράσταση της f τέμνει τον άξονα $x'x$ σε ένα μόνο σημείο με τετμημένη $x_0 \in (0, 2)$.

δ) Αν g είναι μια συνάρτηση για την οποία ισχύει ότι $g'(x) = -f(x)$ για κάθε $x \in \mathbb{R}$ να αποδείξετε ότι η g παρουσιάζει ολικό μέγιστο στο x_0 .